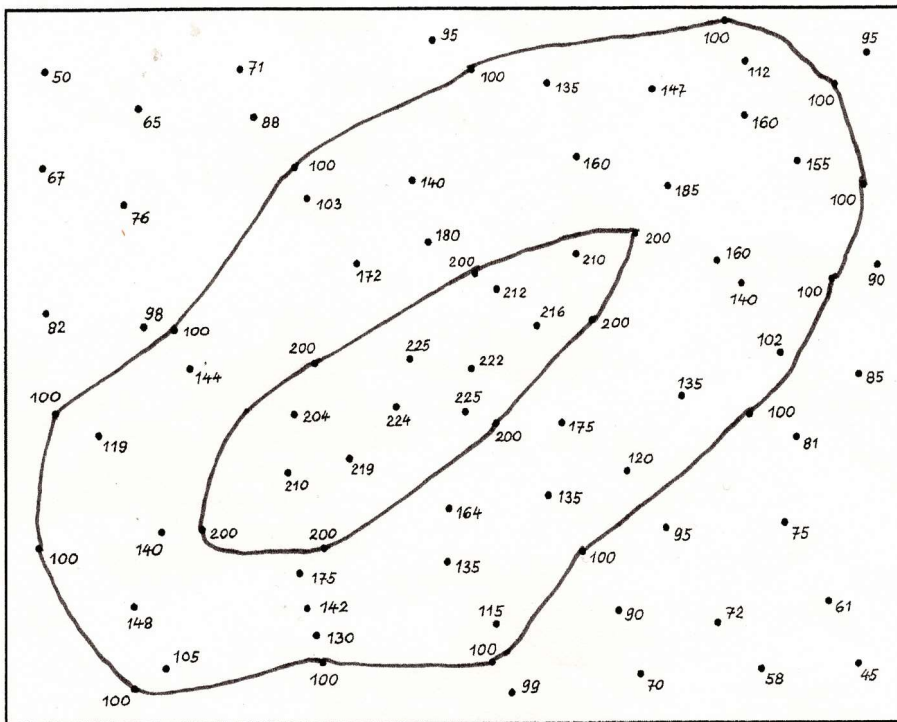


Bergauf und bergab – Höhen, Höhenlinien und Höhenschichten

1 Zeichne die 100-Meter- und 200-Meter-Höhenlinien ein.



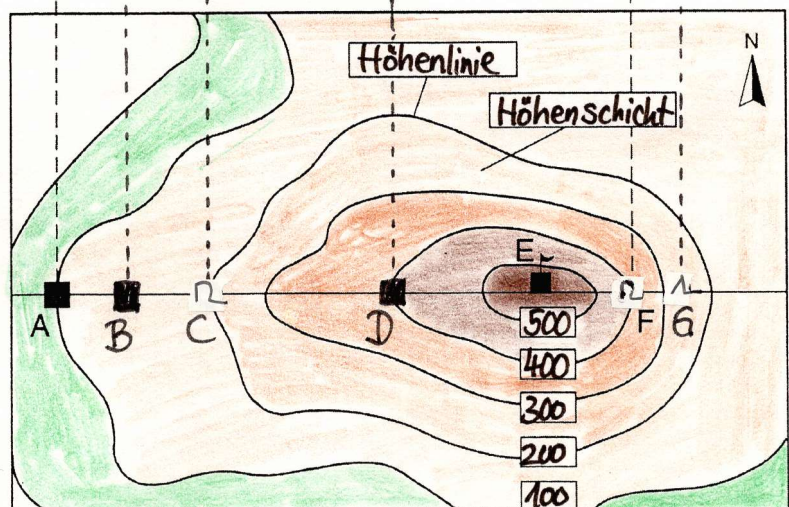
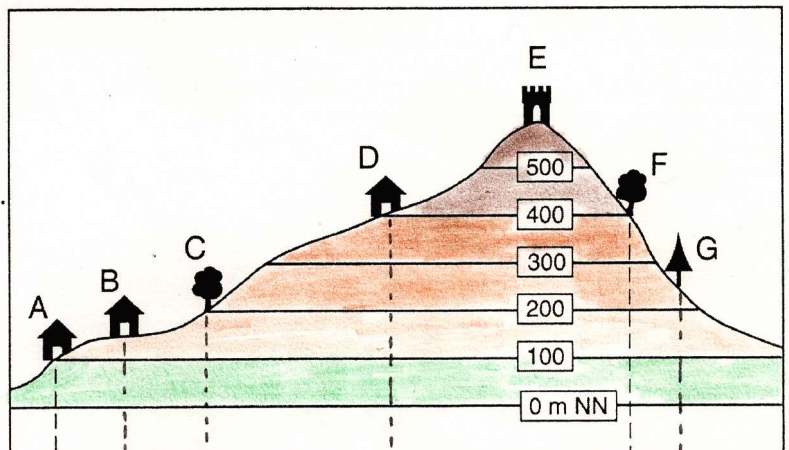
2 a) Trage die Begriffe Höhenlinie und Höhenschicht ein und beschrifte in der unteren Skizze die Höhenlinien.

b) Trage durch Hilfslinien die Häuser und Bäume in die untere Skizze ein. Verwende folgende Symbole:

- Haus
- △ Nadelbaum
- ◡ Laubb Baum

c) Nenne die Objekte, für die du eine exakte Höhe angeben kannst.

A = 100 m
 C = 200 m
 D = 400 m
 F = 400 m



Höhenschichten		
über 500 m	300 – 400 m	100 – 200 m
400 – 500 m	200 – 300 m	0 – 100 m