


Bergauf und bergab – Höhen, Höhenlinien und Höhenschichten

1 Zeichne die 100-Meter- und 200-Meter-Höhenlinien ein.

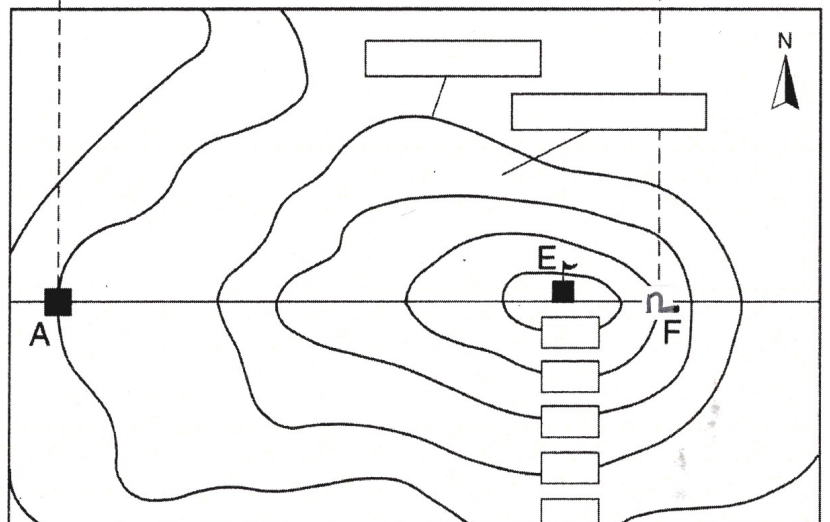
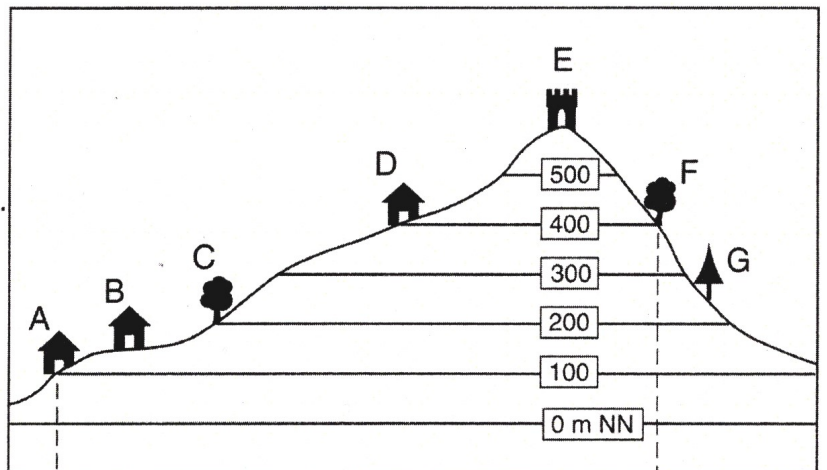


2 a) Trage die Begriffe Höhenlinie und Höhenschicht ein und beschrifte in der unteren Skizze die Höhenlinien.

b) Trage durch Hilfslinien die Häuser und Bäume in die untere Skizze ein. Verwende folgende Symbole:

- Haus
- △ Nadelbaum
- ◻ Laubbaum

c) Nenne die Objekte, für die du eine exakte Höhe angeben kannst.



Höhenschichten

<input type="checkbox"/>	über 500 m	<input type="checkbox"/>	300 – 400 m	<input type="checkbox"/>	100 – 200 m
<input type="checkbox"/>	400 – 500 m	<input type="checkbox"/>	200 – 300 m	<input type="checkbox"/>	0 – 100 m