

## Arbeitsplan SU vom 12.04 bis 16.04.21


Woche	Inhalte Radfahrausbildung	☺ ☹ Selbst- einschät- zung	✓	☺ ☹ Eltern
<b>Mo</b>	<u>Wiederholung Verkehrsschilder</u> AB – Richt-, Vorschrifts-, Gefahrenzeichen AB – Kennst du die Verkehrszeichen AB – Welches Schild fehlt hier?			
<b>Fr</b>	<u>Vorfahrtsregeln</u> AB – Vorfahrtsregeln 1- Verkehrszeichen AB – Verkehrszeichen – Vorfahrtsregelung 1 + 2 AB – Vorfahrtsregeln – Übung 1+2  <b>Bitte schicke diese Arbeitsblätter deiner Lehrkraft als PDF per Mail zu.</b>			



# Silber-Training (8)

## Richtzeichen – Vorschriftzeichen – Gefahrzeichen

Verkehrszeichen erkennt man an ihrer Form und ihrer Farbe.  
Die Form erkennst du hier – male sie auch in der richtigen Farbe an.




Richtzeichen

①



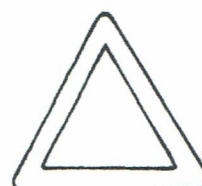
Vorschriftzeichen

②



Verbotzeichen


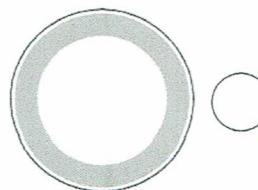








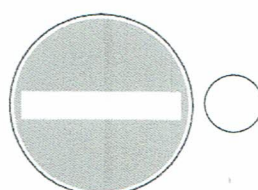

③



Gefahrzeichen

④

Ordne die Schilder in die richtige Gruppe ein.  
Schreibe dazu in die Kreise die richtige Ziffer.




## Gold-Training (5)

### Kennst du die Verkehrszeichen?

Kreuze die richtige Erklärung an.



- Radfahrer müssen hier auf Fußgänger Rücksicht nehmen.
- Radfahrer haben immer Vorrang, weil sie schneller sind.




- Hier muss man Vorfahrt gewähren.
- Dieses Schild sagt, dass man Vorfahrt hat.




- Fußgänger dürfen die Straße nutzen, Kinderspiele sind überall erlaubt.
- Radfahrer können hier Radrennen veranstalten.



- Dieses Schild gilt nicht für Radfahrer.
- Einbahnstraßen dürfen nur in der vorgegebenen Richtung befahren werden.



- Kreisverkehr: der Verkehr, der innerhalb des Kreises fährt, hat Vorfahrt.
- Karussell: wer am schnellsten im Kreis fahren kann, hat gewonnen.




- Der breite, schwarze Bogen zeigt den Verlauf der Vorfahrtstraße an.
- Hier darf man nur nach links abbiegen oder geradeaus fahren.






# Gold-Training (6)



Welches Schild fehlt hier?


Kreuze das richtige Schild an.






- 
- 




- 
- 






- 
- 



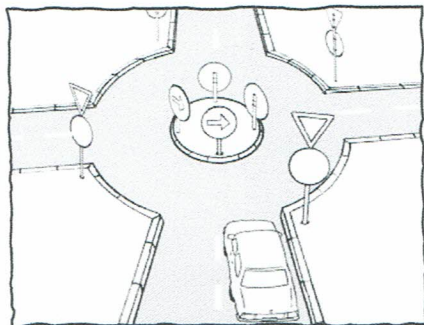
- 
- 






- 
- 



- 
- 



- 
- 



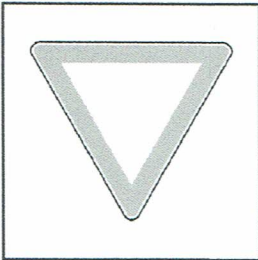
-  frei
-  frei



# Vorfahrtsregeln 1: Verkehrszeichen


Alle Verkehrsteilnehmer müssen sich an die Verkehrsregeln halten, damit kein Chaos entsteht und keine Unfälle passieren. Auch du als Fahrradfahrer musst die Regeln kennen und befolgen. Ganz besonders wichtig sind die Vorfahrtsregeln!

**Die Vorfahrt kann durch Verkehrszeichen geregelt werden:**



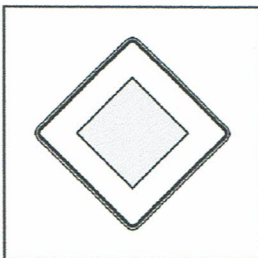
## Vorfahrt gewähren!

Hier musst du vorsichtig an die Straßeneinmündung heranfahren. Wenn andere Verkehrsteilnehmer kommen, musst du warten und sie fahren lassen. Fahre erst weiter, wenn die bevorrechtigte Fahrbahn frei ist.



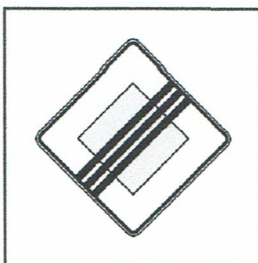
## Halt! Vorfahrt gewähren!

Hier musst du an der Haltelinie anhalten. Dein Vorderrad ist an der Linie und den rechten Fuß stellst du auf den Boden. Du musst alle anderen Verkehrsteilnehmer durchfahren lassen. Fahre erst weiter, wenn die bevorrechtigte Fahrbahn frei ist.




## Vorfahrtstraße

Alle Fahrzeuge auf dieser Straße haben Vorfahrt. Schau an einer Querstraße trotzdem nach rechts und links und sei für den Notfall immer bremsbereit.



## Ende der Vorfahrtstraße

Dieses Schild beendet die Vorfahrt auf dieser Straße.



## Vorfahrt (an der nächsten Kreuzung oder Einmündung)

Du hast nur an dieser Kreuzung oder Einmündung Vorfahrt. Schau trotzdem nach rechts und links und sei für den Notfall immer bremsbereit.

**Die Vorfahrt kann auch durch Ampeln geregelt werden.**








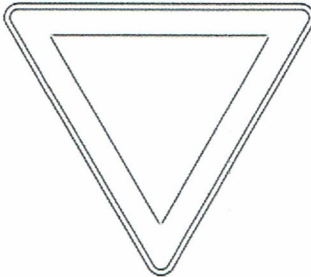
# Verkehrszeichen – Vorfahrtsregelung 1

Name:

Datum:

1  Male die Verkehrszeichen in der richtigen Farbe an.

2  Verbinde mit der richtigen Beschreibung.



● Ich habe an der nächsten Kreuzung Vorfahrt.

● An der nächsten Kreuzung gilt rechts vor links.

● Fahrzeuge von links und rechts haben Vorfahrt.

● Halt! Die anderen Fahrzeuge haben Vorfahrt.

● Ich habe Vorfahrt.

# Verkehrszeichen – Vorfahrtsregelung 2

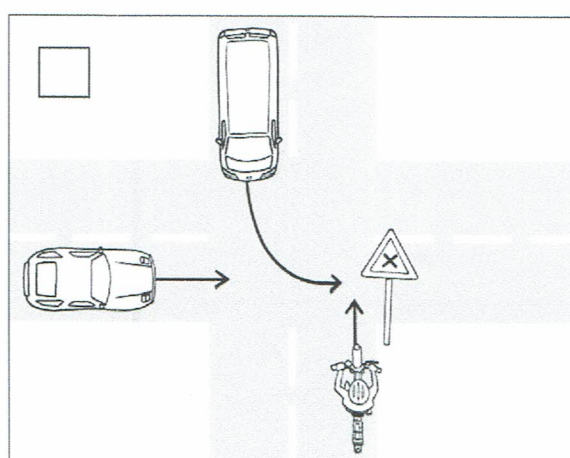
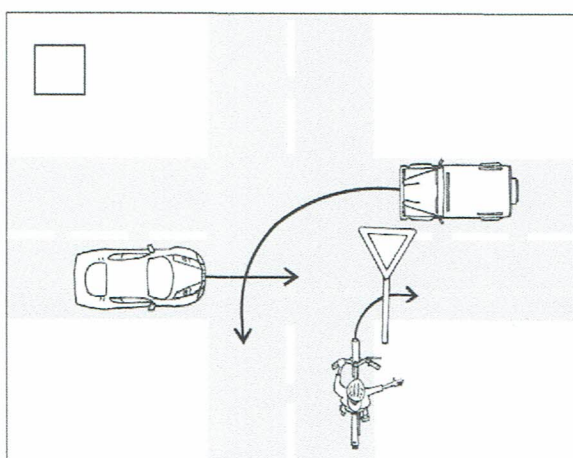
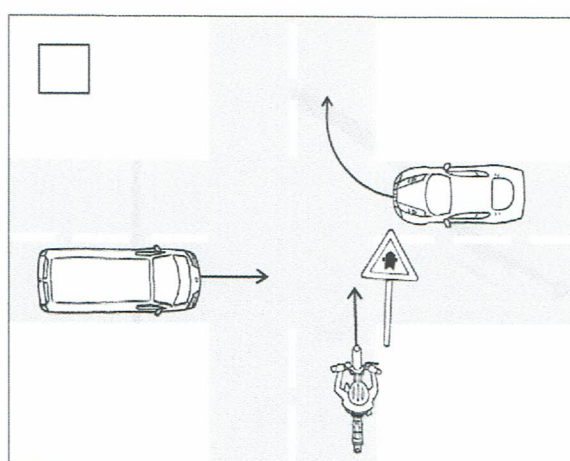
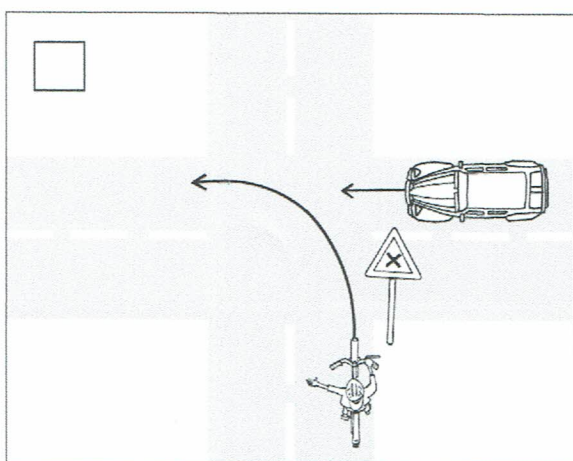
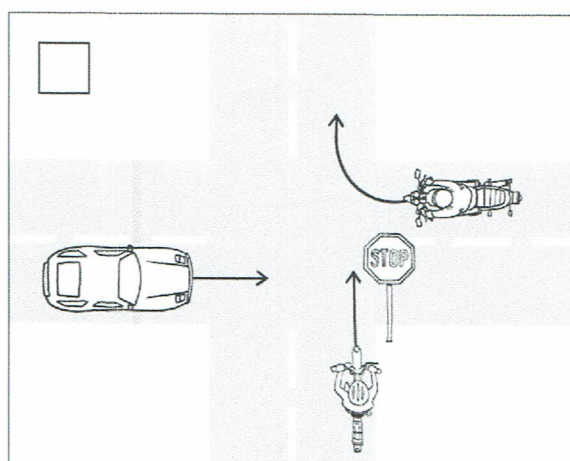
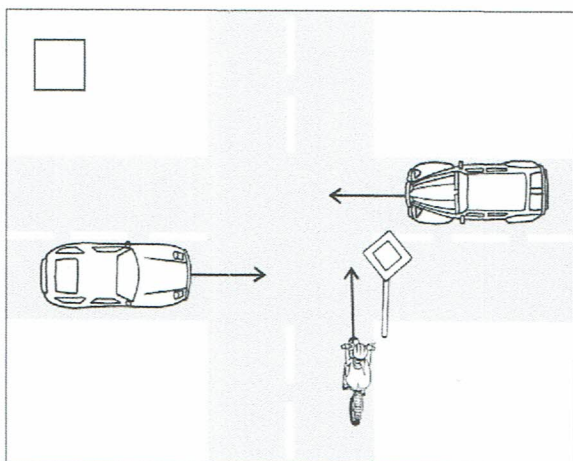


Name:

Datum:



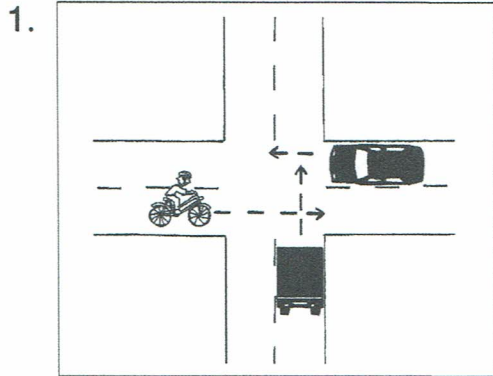
Wo hat der Radfahrer Vorfahrt?  
Kreuze an.



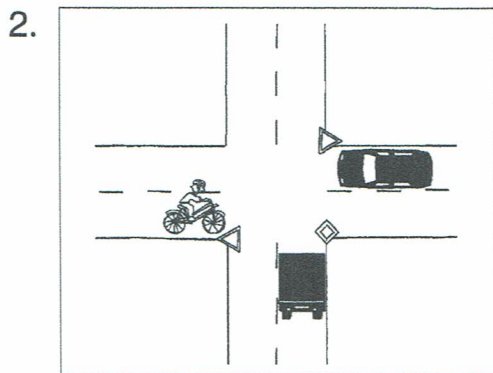


# Vorfahrtsregeln-Übung (1)


- 1 Wer darf zuerst fahren? Kreuze jeweils richtig an.  
Die richtigen Buchstaben ergeben ein Lösungswort.



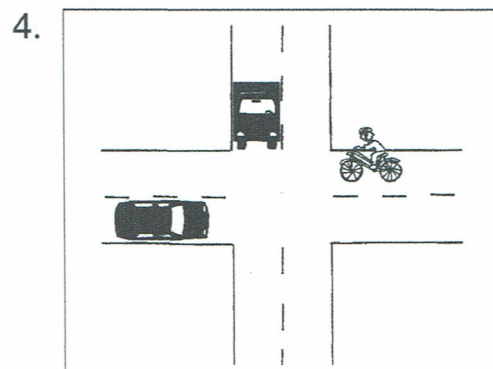
- Lkw (A)  
 Pkw (V)  
 Fahrradfahrer (F)



- Lkw (O)  
 Pkw (S)  
 Fahrradfahrer (U)




- Lkw (E)  
 Pkw (M)  
 Fahrradfahrer (R)

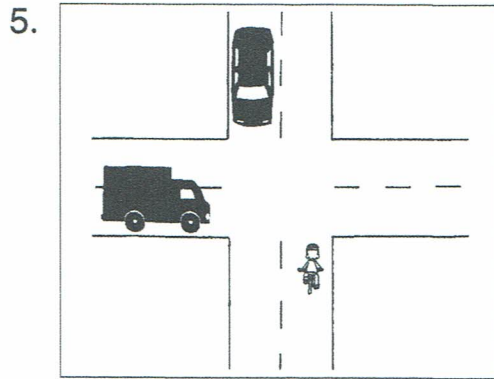


- Lkw (A)  
 Pkw (F)  
 Fahrradfahrer (S)

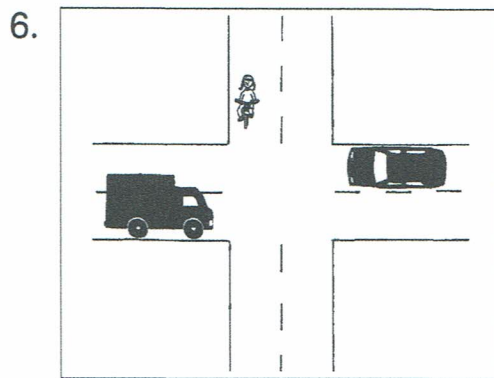





# Vorfahrtsregeln-Übung (2)



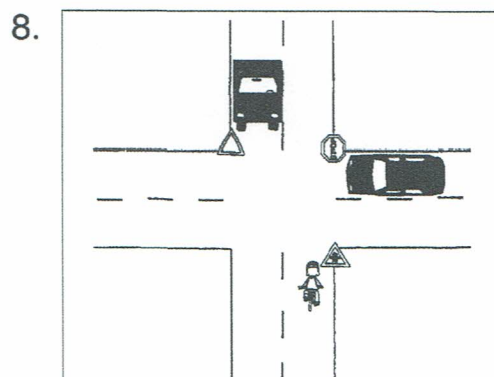
- Lkw (I)
- Pkw (O)
- Fahrradfahrer (A)



- Lkw (H)
- Pkw (G)
- Fahrradfahrer (B)



- Lkw (T)
- Pkw (R)
- Fahrradfahrer (G)



- Lkw (R)
- Pkw (N)
- Fahrradfahrer (T)

LÖSUNGSWORT: \_\_\_\_\_