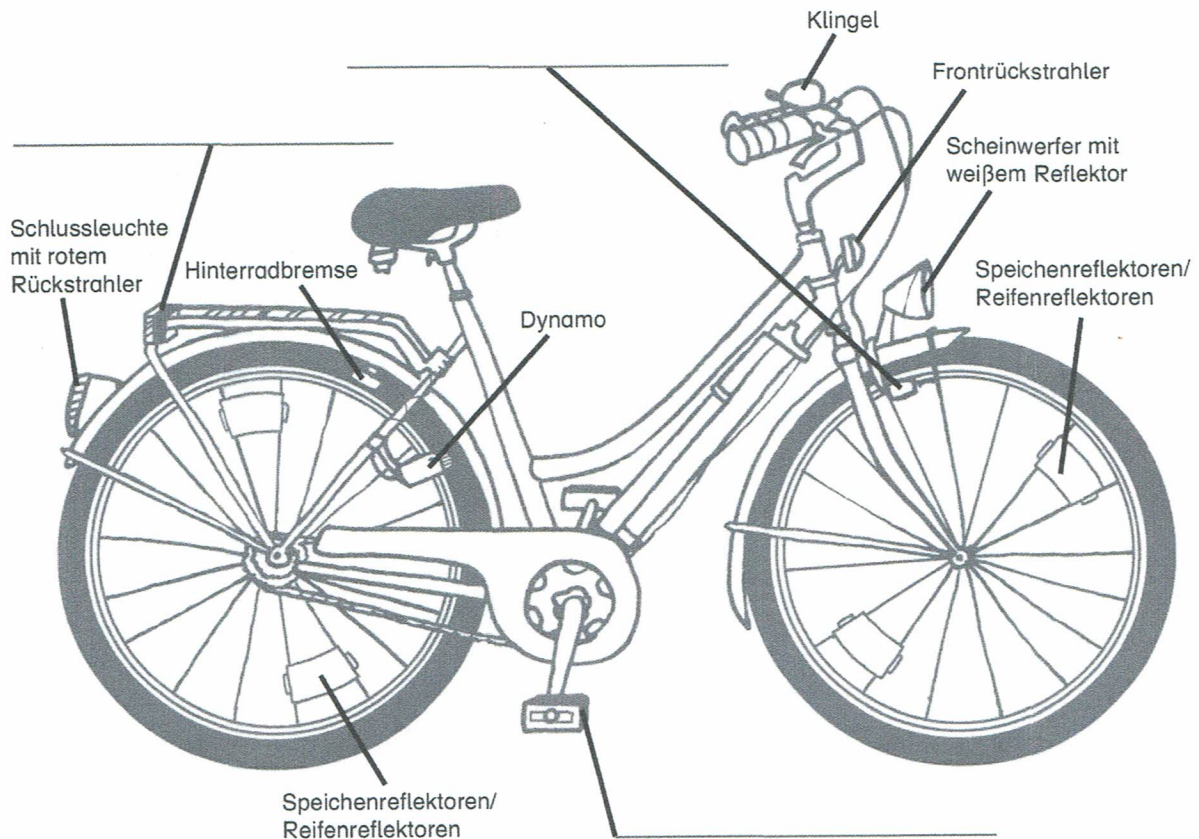


Name: _____

Silber-Prüfung – Generalprobe



1 Schreibe auf, wie die drei fehlenden Teile des Fahrrads heißen.



2 Kreuze an, welche Aussagen zutreffen.

- Beim Radfahren reicht es aus, statt eines Fahrradhelms eine Mütze oder ein Cap zu tragen.
- Den Kinnriemen kann man wahlweise schließen oder geöffnet lassen.
- Die Ohren sollen vom Helm nicht bedeckt werden, damit man im Straßenverkehr gut hören kann.
- Beim Radfahren muss man immer einen Helm tragen.
- Ein Fahrradhelm sollte eine auffällige Farbe haben.



Name: _____




Silber-Prüfung – Generalprobe

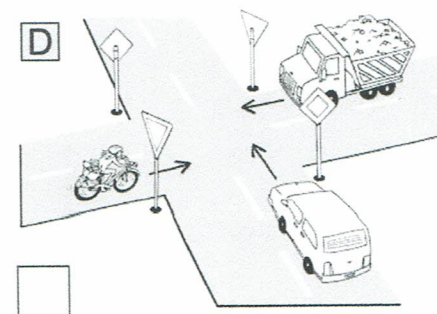
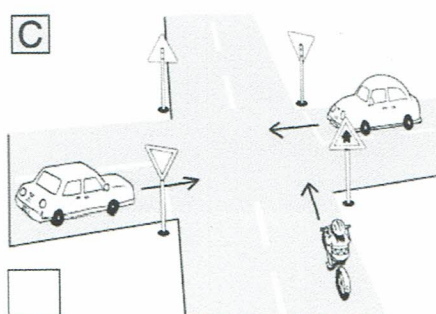
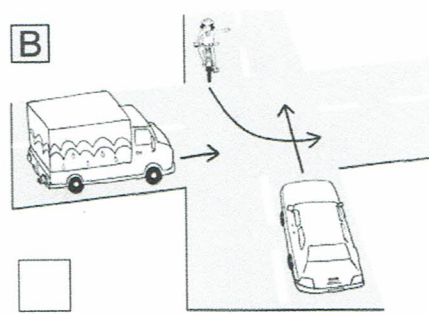
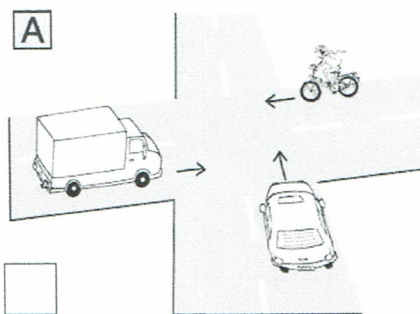
3 Kreuze an, welche Bedeutung die Schilder für Radfahrer haben.

Hier darf ich mit dem Rad fahren.					
Hier muss ich mit dem Rad fahren.					
Hier darf ich nicht mit dem Rad fahren.					


4 Kreuze an, welche Schilder die Vorfahrt regeln.



5 Kreuze an, in welchen Bildern der Radfahrer Vorfahrt hat.



Name: _____

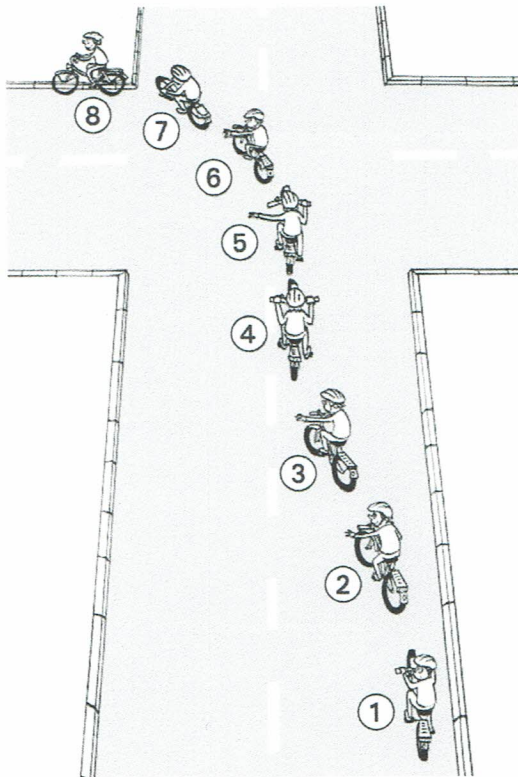


Gold-Prüfung – Generalprobe

1 Kreuze an, welche Aussagen zutreffen.

- Im Sommer kann man beim Radfahren auf einen Helm verzichten, weil es zu heiß dafür ist.
- Einbahnstraßen dürfen nur in der vorgegebenen Richtung befahren werden.
- Wird an einer Kreuzung die Vorfahrt nicht durch Verkehrsschilder geregelt, gilt die Regel „rechts vor links“.
- Schwarz ist eine Modefarbe, und deshalb sollten möglichst alle Verkehrsteilnehmer schwarz tragen – schließlich sollen sie gut aussehen!
- Auf einem gemeinsamen Fußgängerweg und Radweg müssen die Radfahrer auf die Fußgänger Rücksicht nehmen.
- Man sollte nie ohne Helm Fahrrad fahren.
- Im Kreisverkehr haben die Verkehrsteilnehmer Vorfahrt, die innerhalb des Kreises fahren.
- Wenn ein Fahrrad mit allen Rückstrahlern ausgestattet ist, müssen kein Scheinwerfer und keine Schlussleuchte montiert sein.

2 Bestimme, welche Aussagen für die Positionen 3, 5 und 7 zutreffen.



- Auf Fußgänger achten
Handzeichen geben
Im großen Bogen links abbiegen

- Gegenverkehr vorbeilassen
Rechts weiterfahren
Umsehen


- Umsehen
Handzeichen geben
Vorfahrt beachten

Name: _____


GOLD

Gold-Prüfung – Generalprobe

3 Kreuze an, womit du in diesen Situationen rechnen musst.

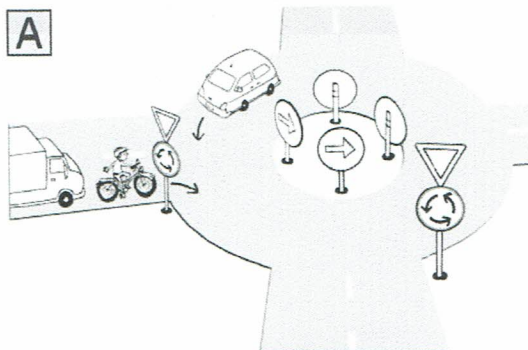


- Es kann nichts passieren, der Radfahrer hat Vorfahrt.
- Der Autofahrer hat dich nicht gesehen und biegt ab.
- Der Autofahrer fährt geradeaus weiter.

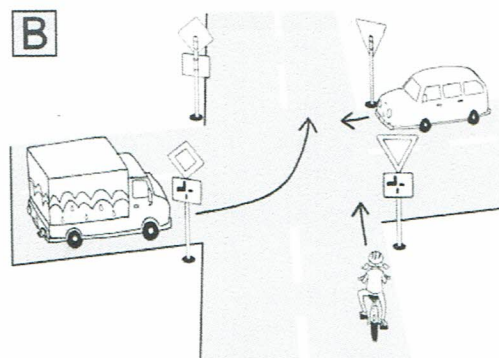


- Es kann nichts passieren. Das Auto parkt.
- Der Radfahrer fährt zurück an den Straßenrand.
- Der Autofahrer öffnet die Tür und gefährdet damit den Radfahrer.

4 Wer hat hier Vorfahrt?
Trage die Ziffern von 1–3 ein.



- Radfahrer LKW Auto



- Radfahrer LKW Auto